



CENTRO EDUCACIONAL  
SAN ANDRÉS



PROGRAMA DE INTEGRACIÓN  
Centro de Educación San Andrés  
"Disculpen las risas estamos aprendiendo"

# RECURSOS AULA INVERTIDA

SEPTIEMBRE

PRIMERO BÁSICO

**“EN COMUNIDAD, LAS DIFERENCIAS NOS ENRIQUECEN Y EL RESPETO NOS UNE”.**



# SEMANA I

2 AL 6 DE SEPTIEMBRE

**LENGUAJE**

**PROFESORA CAMILA BELTRÁN**

**MATEMÁTICA**

**PROFESORA FRANCISCA CABELLO**



# LENGUAJE

## SEMANA I

2 AL 6 DE SEPTIEMBRE

**LENGUAJE: OBSERVA EL SIGUIENTE VIDEO DE LA CH**

Dígrafo CH - Cha Che Chi Cho Chu - Cuchara, chiste y más palabras con CH - FONÉTICA - 123 Andrés

Para salir de la pantalla completa, presiona **esc**

**¡Hola, Christina!**

0:02 / 1:24

The video player shows a man in a red patterned shirt and a brown hat waving to a woman in a blue striped shirt and denim overalls. The background is a blue wall with faint white letters. The video player interface includes a progress bar, a play button, a volume icon, and a settings icon.



# MATEMÁTICA

## SEMANA I

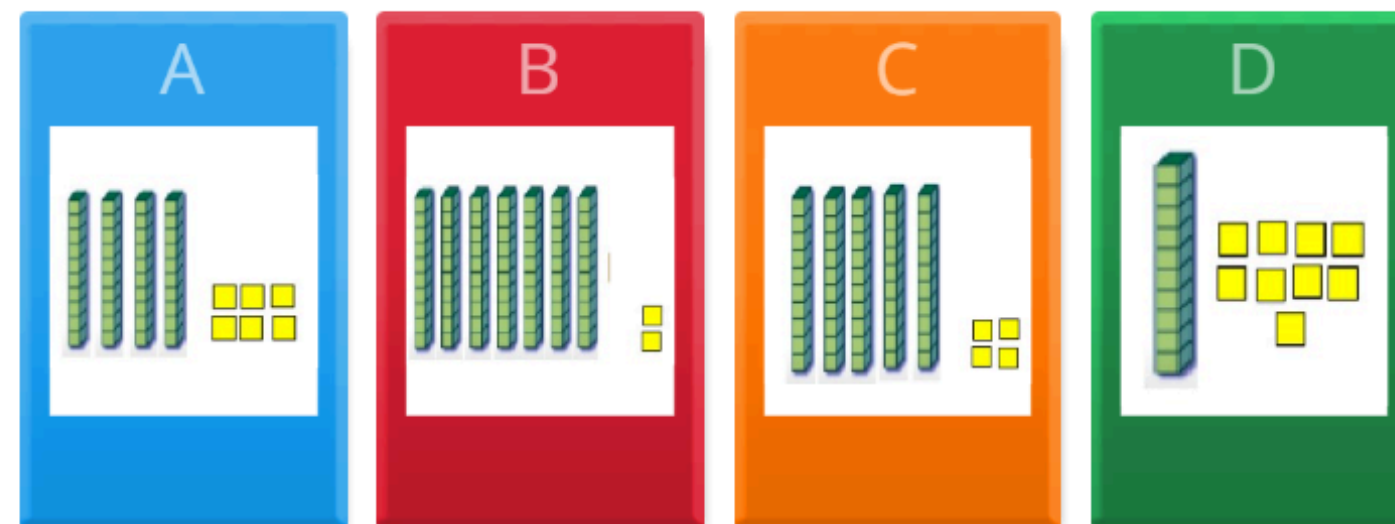
2 AL 6 DE SEPTIEMBRE

**MATEMÁTICAS: IDENTIFICA EL NÚMERO REPRESENTADO CON CUBOS MULTIBASE.**

0:06

✓ 0

cuarenta y seis



◀ 1 de 5 ▶



Bloques multibase

por Katherinasanche

Compartir

Editar contenido... Más



# SEMANA 2

9 AL 13 DE SEPTIEMBRE

## LENGUAJE

PROFESORA CAMILA BELTRÁN

## MATEMÁTICA

PROFESORA FRANCISCA CABELLO



# LENGUAJE

## SEMANA 2

9 AL 13 DE SEPTIEMBRE

**LENGUAJE: OBSERVA EL SIGUIENTE VIDEO LL**





# MATEMÁTICA

## SEMANA 2

9 AL 13 DE SEPTIEMBRE

**MATEMATICAS: SELECCIONA LA ALTERNATVA CORRECTA.**

$$\begin{array}{r} 3 \\ - 1 \\ \hline 2 \end{array}$$

1:09 / 5:12

$$\begin{array}{r} 2 \\ + 1 \\ \hline 3 \end{array}$$

1:07 / 4:16



# SEMANA 4

23 AL 27 DE SEPTIEMBRE

## LENGUAJE

PROFESORA CAMILA BELTRÁN

## MATEMÁTICA

PROFESORA FRANCISCA CABELLO



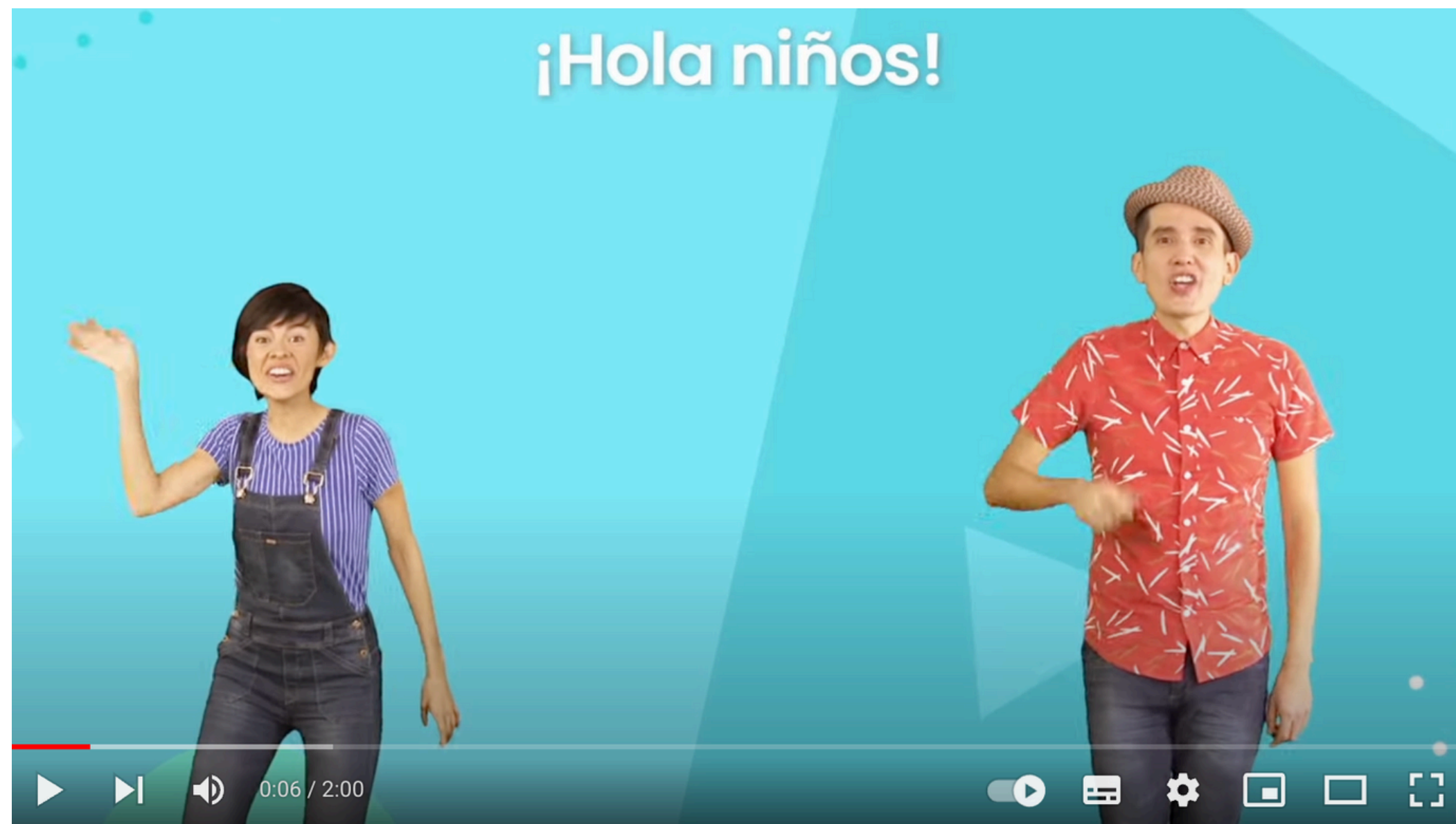


# LENGUAJE

## SEMANA 4

23 AL 27 DE SEPTIEMBRE

**LENGUAJE: OBSERVA EL SIGUIENTE  
VIDEO CA-CO-CU**





# MATEMÁTICA

## SEMANA 4




23 AL 27 DE SEPTIEMBRE

**MATEMATICAS: SELECCIONA LA  
RESPUESTA CORRECTA.**

0:00

✓ 0

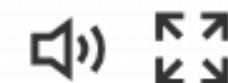
Si Amanda tiene 4 peras y le regala 2 a Fernanda  
¿Con cuántas peras se quedó Amanda?


		
4	-	2 =

- A 3
- B 8
- C 2



◀ 1 de 11 ▶





**¡MUCHAS  
GRACIAS!**