



CENTRO EDUCACIONAL
SAN ANDRÉS



PROGRAMA DE INTEGRACIÓN
Centro de Educación San Andrés
"Disculpen las risas estamos aprendiendo"

RECURSOS AULA INVERTIDA

SEPTIEMBRE

CUARTO BÁSICO

“EN COMUNIDAD, LAS DIFERENCIAS NOS ENRIQUECEN Y EL RESPETO NOS UNE”.



SEMANA I

2 AL 6 DE SEPTIEMBRE

LENGUAJE

PROFESORA NICOLE VALENZUELA

MATEMÁTICA

PROFESORA DENISSE ESPINOZA



LENGUAJE

SEMANA I

2 AL 6 DE SEPTIEMBRE



LA NOTICIA Y SU ESTRUCTURA.



LENGUAJE

SEMANA I

2 AL 6 DE SEPTIEMBRE





LA ENTRADA O LEAD DE UNA NOTICIA: PREGUNTAS CLAVES.



MATEMÁTICA


SEMANA I

2 AL 6 DE SEPTIEMBRE

 Inecuaciones introducción | conceptos básicos 

INECUACIÓN

INTRODUCCIÓN



QUÉ ES UNA INECUACIÓN?

$$X + 1 > 10$$

Watch on  YouTube

HASTA EL MINUTO 4:46.



SEMANA 2

9 AL 13 DE SEPTIEMBRE

LENGUAJE

PROFESORA NICOLE VALENZUELA

MATEMÁTICA

PROFESORA DENISSE ESPINOZA




LENGUAJE

SEMANA 2

9 AL 13 DE SEPTIEMBRE

Gameshow quiz
**LA
NOTICIA**



A multiple choice
quiz with time
pressure, lifelines
and a bonus round.

Powered by Wordwall

Speaker icon and full screen icon

JUEGO LA NOTICIA



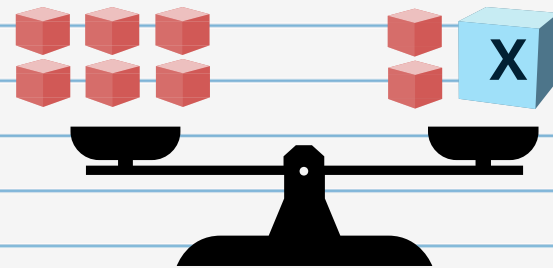
MATEMÁTICA

SEMANA 2

9 AL 13 DE SEPTIEMBRE

Ejemplo:

a) $6 = 2 + X$



$x = 4$

EVALUACIÓN PRÁCTICA ECUACIONES E INECUACIONES.

PRACTICAR EN CASA LA REPRESENTACIÓN DE LAS SIGUIENTES ECUACIONES E INECUACIONES, DIBUJANDO BALANZAS, TAL COMO MUESTRA LA IMAGEN:

- 1) $6 < X - 1$
- 2) $X + 12 = 31$
- 3) $31 - A = 26$
- 4) $15 + D > 9$
- 5) $32 < X + 3$



SEMANA 4

23 AL 27 DE SEPTIEMBRE

LENGUAJE

PROFESORA NICOLE VALENZUELA

MATEMÁTICA

PROFESORA DENISSE ESPINOZA



LENGUAJE

SEMANA 4

23 AL 27 DE SEPTIEMBRE



REFLEXIONA SOBRE EL LIBRO: SADAKO Y LAS MIL GRULLAS DE PAPEL



MATEMÁTICA

SEMANA 4

23 AL 27 DE SEPTIEMBRE

AprendoTV - Matemática 3° y 4° básico /Capítulo 33

Copy link

¿CÚAL ES TU DEPORTE FAVORITO?

Watch on YouTube

PANTALLA.

A woman in a black tank top and white visor is pointing upwards. The background is a colorful studio set with geometric shapes and a sign that says "¿CÚAL ES TU DEPORTE FAVORITO?". A smaller inset video shows the same woman in a purple shirt.

OBSERVA EL SIGUIENTE VIDEO SOBRE LOS PICTOGRAMAS.




MATEMÁTICA

SEMANA 4

23 AL 27 DE SEPTIEMBRE



OBSERVA EL SIGUIENTE VIDEO SOBRE LOS GRÁFICOS DE BARRA.



**¡MUCHAS
GRACIAS!**