



CENTRO EDUCACIONAL  
SAN ANDRÉS



PROGRAMA DE INTEGRACIÓN  
Centro de Educación San Andrés  
"Disculpen las risas estamos aprendiendo"

# RECURSOS AULA INVERTIDA

NOVIEMBRE

PRIMERO BÁSICO

**“EN COMUNIDAD, LAS DIFERENCIAS NOS ENRIQUECEN Y EL RESPETO NOS UNE”.**



# SEMANA I

4 AL 8 DE NOVIEMBRE

**LENGUAJE**

**PROFESORA CAMILA BELTRÁN**

**MATEMÁTICA**

**PROFESORA FRANCISCA CABELLO**



# LENGUAJE

## SEMANA I

4 AL 8 DE NOVIEMBRE

**ESCRIBE EN TU CUADERNO EL SIGUIENTE TEXTO.**



### La rata

(Gabriela Mistral)

Una rata corrió a un venado  
y los venados al jaguar,  
y los jaguares a los búfalos,  
y los búfalos a la mar...

¡Pillen, pillen a los que se van!  
¡Pillen a la rata, pillen al venado,  
pillen a los búfalos y a la mar!

Miren que a la rata de la delantera  
se lleva en las patas lana de bordar,  
y con la lana bordo mi vestido  
y con el vestido me voy a casar.

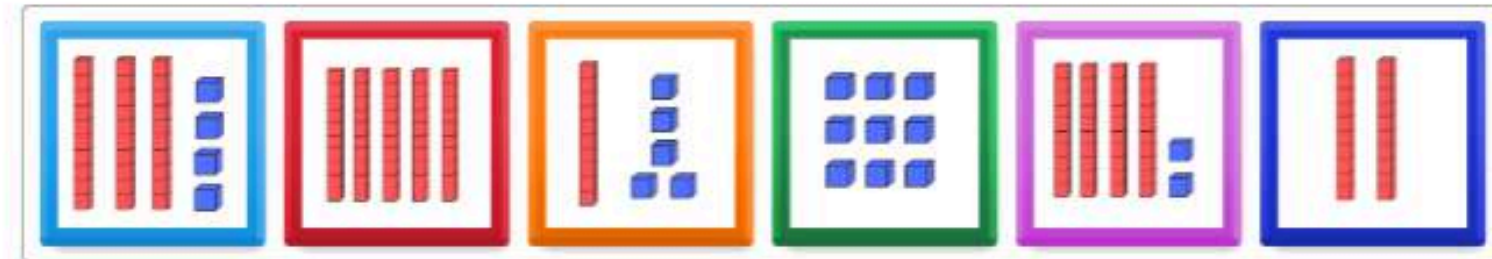


# MATEMÁTICA SEMANA I

4 AL 8 DE NOVIEMBRE

ARRASTRA CADA REPRESENTACIÓN DE LA CANTIDAD HASTA EL NÚMERO QUE CORRESPONDA.

0:01



15

42

20

34

50

9



Enviar respuestas





# SEMANA 2

11 AL 15 DE NOVIEMBRE

## LENGUAJE

PROFESORA CAMILA BELTRÁN

## MATEMÁTICA

PROFESORA FRANCISCA CABELLO





# LENGUAJE SEMANA 2

11 AL 15 DE NOVIEMBRE

**OBSERVA EL SIGUIENTE VIDEO.**



# MATEMÁTICA

## SEMANA 2

11 AL 15 DE NOVIEMBRE



**OBSERVA EL SIGUIENTE VIDEO Y CUENTA HASTA 100.**







# SEMANA 3

18 AL 22 DE NOVIEMBRE

## LENGUAJE

PROFESORA CAMILA BELTRÁN

## MATEMÁTICA

PROFESORA FRANCISCA CABELLO



# LENGUAJE

## SEMANA 3

18 AL 22 DE NOVIEMBRE

**OBSERVA EL SIGUIENTE VIDEO.**





# MATEMÁTICA

## SEMANA 3

18 AL 22 DE NOVIEMBRE

**OBSERVA LA IMAGEN Y CONTESTA CADA PREGUNTA.**

0:16

✓ 1

### ¿Cuál es la fruta menos popular?

#### Leyendo Pictogramas

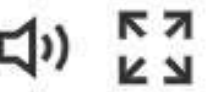
Encuesta a niños de 3° básico sobre la fruta que llevaron de colación:



A Uva	B Manzana
C Plátano	D Naranja



◀ 2 de 10 ▶





# SEMANA 4

25 AL 29 DE NOVIEMBRE

## LENGUAJE

PROFESORA CAMILA BELTRÁN

## MATEMÁTICA

PROFESORA FRANCISCA CABELLO





# LENGUAJE

## SEMANA 4

25 AL 29 DE NOVIEMBRE

**ESCRIBE EN TU CUADERNO EL  
SIGUIENTE TEXTO.**



Celia tiene un amigo especial. Su nombre es Ciro el cisne.

Celia conoció a Ciro un día que paseaba cerca del lago.

¡Celia ama a Ciro! Le parece hermoso y especial.





# MATEMÁTICA

## SEMANA 4

21 AL 25 DE OCTUBRE

0:02

✓ 0

**RESUELVE LOS EJERCICIOS Y PROBLEMAS, SELECCIONANDO LA RESPUESTA CORRECTA.**

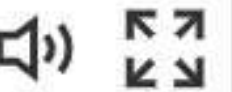
Sofia tiene 3 manzanas y le regalaron 2, ¿Cuántas manzanas tiene en total?


A visual representation of the problem: 3 apples + 2 apples = 5 apples. The apples are arranged in two groups: one with 3 apples and one with 2 apples, followed by an equals sign and a group of 5 apples.

A 5 B 6 C 8



◀ 1 de 10 ▶





**¡MUCHAS  
GRACIAS!**